	COLÉGIO MARIA JOSÉ DA SILVA MELO			Quantitativo
	Série: 9º Ano	Professor: CRISTOVÃO	Data: 24/04/2021	Qualitativo
	Nome: Ana Isabella S.P. Gomes Nº 2			Trabalhos
				TOTAL
II - VERIFICAÇÃO DA APRENDIZAGEM DE GEOGRAFIA - ABRIL				

Questão 01 -A charge faz referência a uma questão fundamental da Europa atual. Essa questão é:



- a) a expulsão de população europeia para os países do Leste europeu, que vem crescendo muito após o fim do socialismo e a abertura para o mercado.
- b) o crescimento das migrações, da xenofobia e do racismo, principalmente entre países que mais recebem imigrantes (como Alemanha e França).
- c) a crescente desigualdade e exclusão social da população europeia, que vem chegando ao nível de vida dos países latino-americanos. Obs.: A pobreza e a exclusão vêm crescendo na União Europeia, mas está ainda bem longe do nível latino-americano.
- d) o excesso de população na Europa devido às altas taxas de crescimento demográfico no continente (alta natalidade e baixa mortalidade).
- e) a livre entrada de imigrantes no continente europeu.

Questão 02 - A Europa possui o maior e mais dinâmico bloco econômico regional do planeta. Ele é considerado uma União Econômica e Monetária, onde além da eliminação das tarifas alfandegárias, é permitida a livre circulação de capitais, serviços e pessoas no interior do bloco. Outra característica importante desse bloco econômico é a adoção da moeda única entre os países integrantes. Marque a alternativa que corresponde a esse bloco econômico.

- a) Comunidade dos Estados Independentes (CEI)
- b) Euro
- c) APEC – Cooperação Econômica da Ásia e do Pacífico.
- d) União Europeia
- e) Nafta

Questão 03 - O envelhecimento da população está mudando radicalmente as características da população da Europa, onde o número de pessoas com mais de 60 anos deverá chegar, nas próximas décadas, a 30% da população total. Graças aos avanços da medicina e da ciência, a população está cada vez mais velha. Isso ocorre em função do:

- a) Declínio da taxa de natalidade e aumento da longevidade.
- b) Aumento da natalidade e diminuição da longevidade.
- c) Crescimento vegetativo e aumento da taxa de natalidade.
- d) Aumento da longevidade e do crescimento vegetativo.
- e) Declínio da taxa de mortalidade e diminuição da longevidade.

Questão 04 - Referendo que determinou o processo de saída do Reino Unido da União Europeia, que justifica sua saída por causa da crise econômica de 2008 e a política migratória adotada pelo bloco.

- a) PIIG'S
- b) Brexit
- c) Benelux
- d) Ceca
- e) Pac

Questão 05 - Leia com atenção a notícia que se segue:

França pagará 750 euros mensais por terceiro filho

O governo francês irá pagar uma licença de 750 euros (cerca de R\$ 2.050,00) por mês durante um ano a famílias que decidirem ter um terceiro filho, anunciou ontem o primeiro ministro do país, Dominique Villepin.

A medida anunciada pelo governo francês está diretamente relacionada:

- a) à política anti-imigração (xenófoba) e de purificação racial adotada pela França nas últimas décadas.
- b) às elevadas taxas de natalidade verificadas no país e em toda a Europa.
- c) à sobrecarga no sistema de previdência social francês, em que um número cada vez menor de jovens precisa sustentar um número cada vez maior de aposentados.
- d) à aproximação do governo francês com as ideias da Igreja Católica, que proíbe o uso de métodos contraceptivos não naturais.
- e) à ideia imperialista de que o poderio econômico de uma nação está diretamente ligado ao tamanho de sua população.

Questão 06 - Os países chamados de forma pejorativa PIIGS, durante a crise econômica da União Europeia foram:

- a) País de Gales, Irlanda do Norte, Escócia e Inglaterra
- b) Portugal, Inglaterra, Irlanda, Grã-Bretanha e Suécia
- c) Porto Rico, Irlanda do Norte, Inglaterra, Grécia e Espanha
- d) Portugal, Irlanda, Itália, Grécia e Espanha

Questão 07 - Migrações pendulares são:

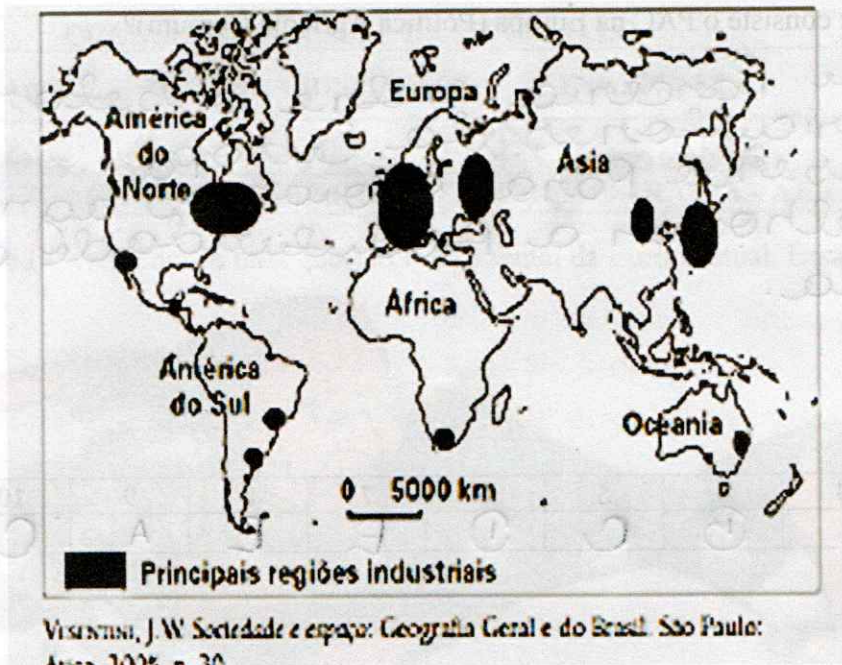
- a) movimentos ligados a atividades pastoris.
- b) movimentos da população rural em direção aos grandes centros urbanos.
- c) troca de imigrantes entre as grandes regiões.
- d) deslocamento maciço de populações urbanas em direção ao campo.
- e) movimentos diários de trabalhadores entre o local de residência e o local de trabalho.

Questão 08 - A União Europeia é o principal bloco econômico da atualidade. É caracterizada pela elevada integração econômica e política dos países-membros, assim como pela adoção de uma moeda única — o euro — e pela livre circulação de bens, serviços e pessoas. Qual o nome do acordo que, assinado em 1992, deu origem à União Europeia?

- a) Acordo de Paris
- b) Espaço Schengen
- c) Plano Marshall
- d) Pacto de Varsóvia
- e) Tratado de Maastricht

Questão 09 - Observe o mapa a seguir.

As principais regiões industriais do mundo, principalmente, nos países europeus, berço da Revolução Industrial no Século XVIII, tiveram como força de propulsão energética motriz.




- a) o carvão mineral
- b) a energia eólica
- c) a energia solar
- d) o petróleo
- e) gás natural

Questão 10 - Em relação a baixa taxa de natalidade europeia um fator que justifique essa condição é:

- a) O fim das guerras
- b) Acesso a boa alimentação
- c) Entrada da mulher no mercado de trabalho
- d) Evolução das técnicas operatórias
- e) A imigração

Questão 11 - A charge ilustra um grave problema social presente na Europa. Conclui-se que esse problema social seja a (o):



- a) trabalho escravo
- b) racismo
- c) imigração ilegal
- d) xenofobia
- e) turismo

Questão 12 – Em que consiste o PAC na Europa (Política Agrícola Comum)?

União ou parceria entre o setor agrícola e os agricultores da Europa. No qual serve para apoiar os agricultores para melhorar a produtividade do setor agrícola.


GABARITO

1	2	3	4	5	6	7	8	9	10	11	
B	D	A	B	C	D	E	E	A	C	AC	

Boa Prova!



30 ANOS



- a) trabalho escravo
- b) racismo
- c) trabalho ilegal
- d) xenofobia
- e) turismo